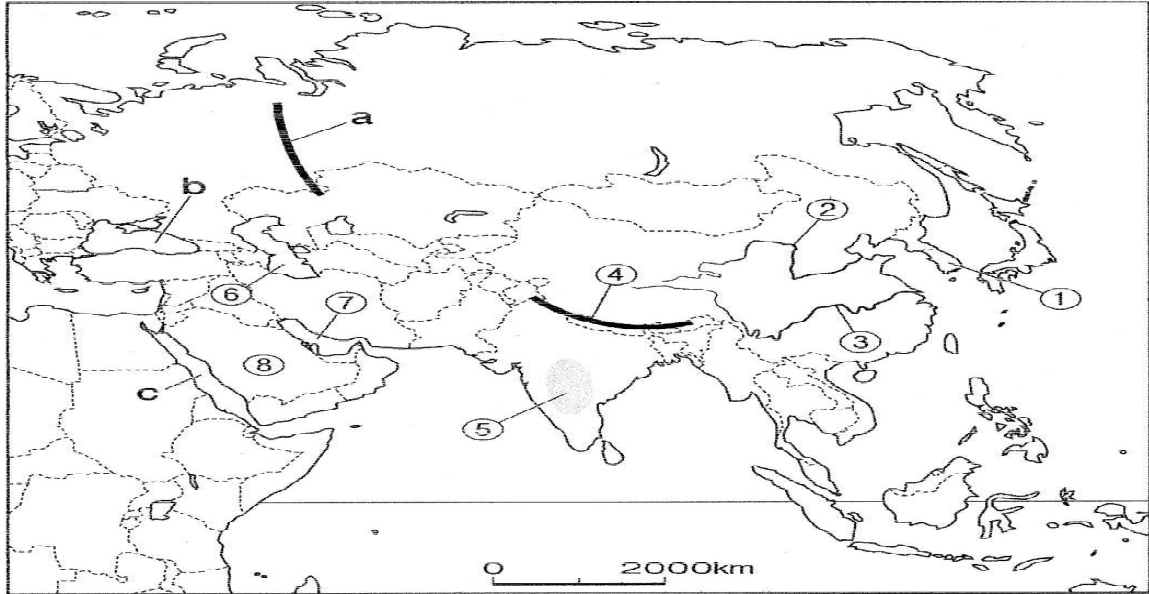


## ○アジア州

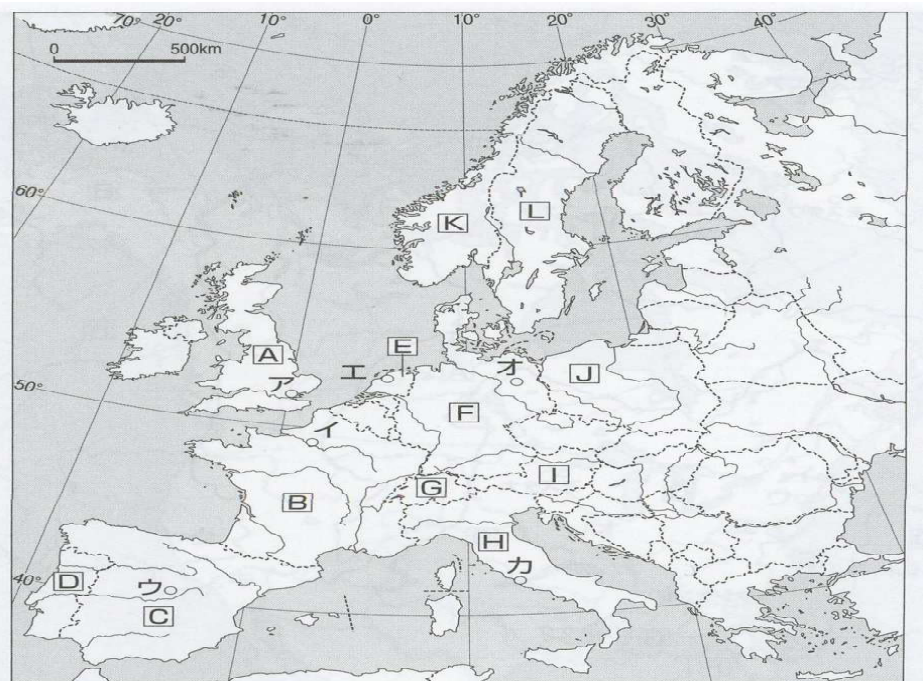


アジア州の自然の特色について、①～⑧，a～c に当てはまる自然地名を調べよう。

①	朝鮮半島	②	黄河
③	長江（揚子江）	④	ヒマラヤ山脈
⑤	デカン高原	⑥	カスピ海
⑦	ペルシア湾	⑧	アラビア半島
a	ウラル山脈	b	黒海
c	紅海		

## ○ヨーロッパ州

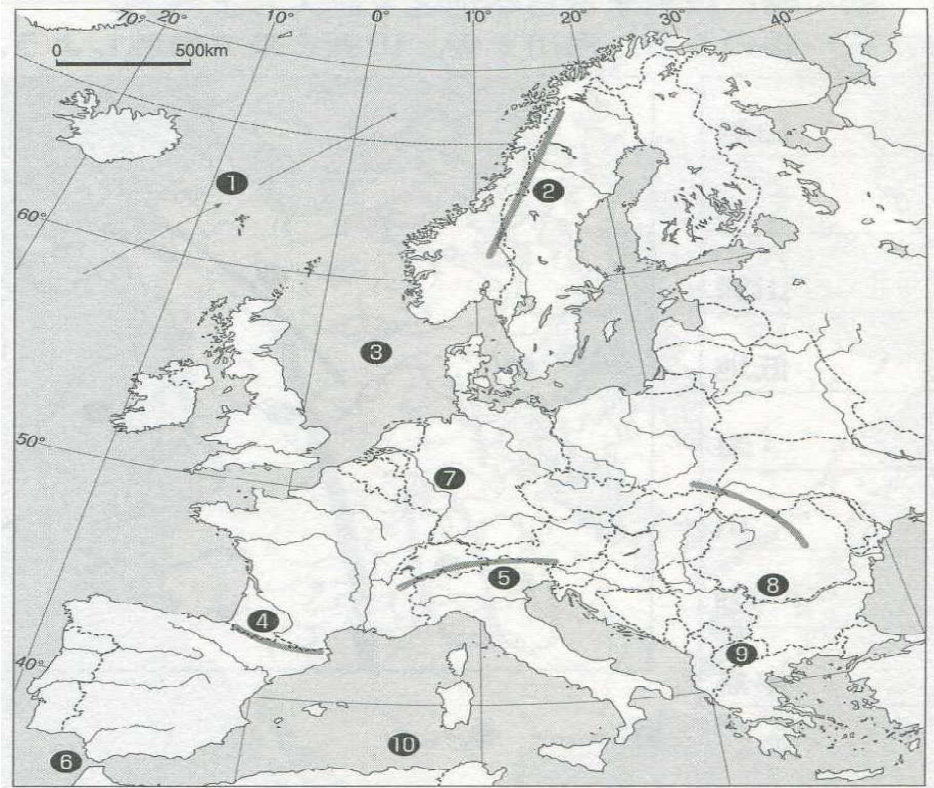
A	イギリス
B	フランス
C	スペイン
D	ポルトガル
E	オランダ
F	ドイツ
G	スイス
H	イタリア
I	オーストリア
J	ポーランド
K	ノルウェー
L	スウェーデン



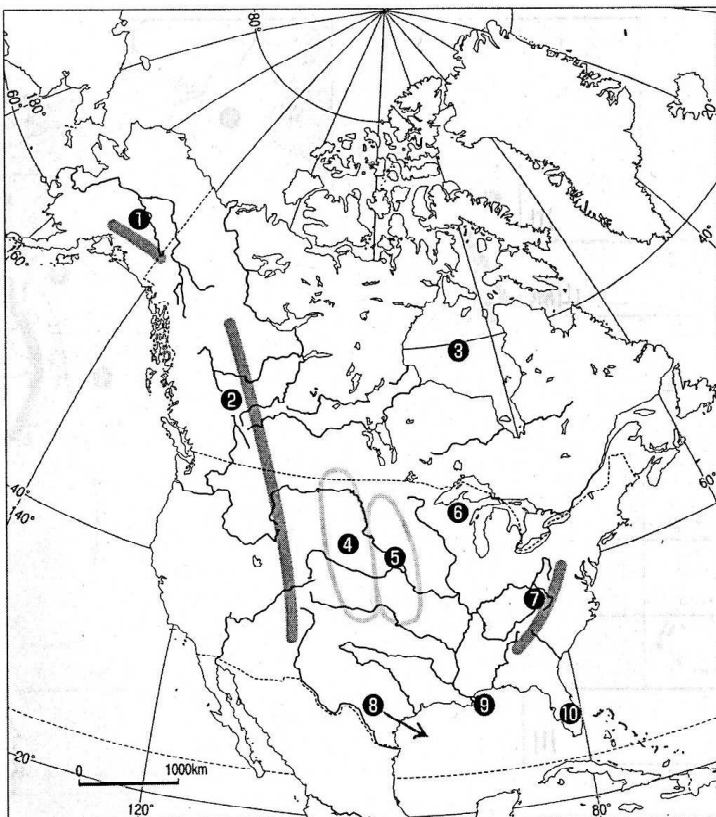
○ ヨーロッパの自然

①	北大西洋	海流
②	スカンディナヴィア	山脈
③	北	海
④	ピレネー	山脈
⑤	アルプス	山脈
⑥	ジブラルタル	海峡
⑦	ライン	川
⑧	ドナウ	川
⑨	バルカン	半島
⑩	地中海	海

ア	ロンドン	ウ	マドリード	オ	ベルリン
イ	パリ	エ	アムステルダム	カ	ローマ

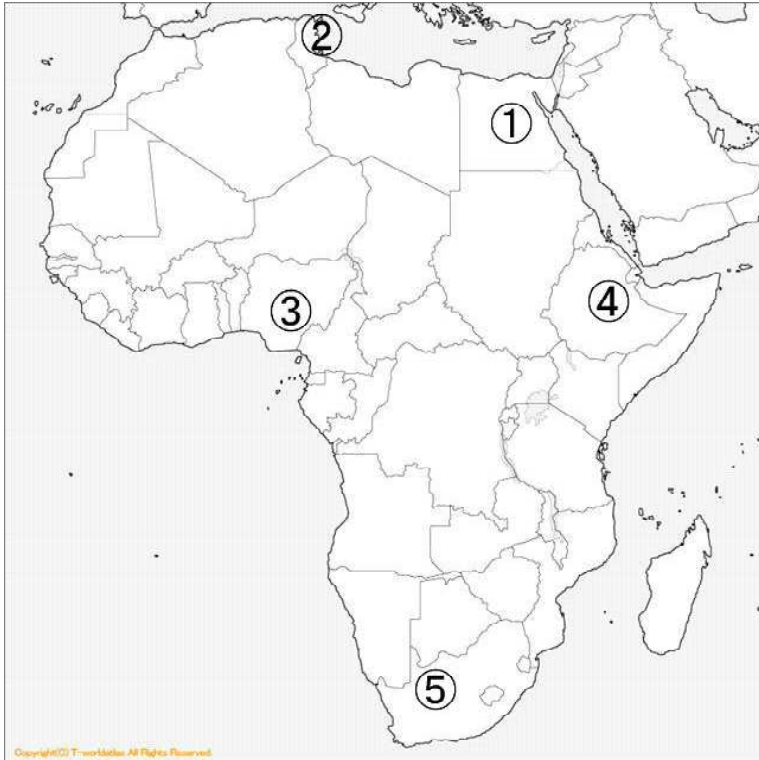


○ 北アメリカ州



①	アラスカ	山脈
②	ロッキー	山脈
③	ハドソン	湾
④	グレートプレーンズ	
⑤	プレーリー	
⑥	五大	湖
⑦	アパラチア	山脈
⑧	メキシコ	湾
⑨	ミシシッピ	川
⑩	フロリダ	半島

# ◎アフリカ州



☆左の地図の①～⑤の国名を書きなさい。

①	エジプト
②	チュニジア
③	ナイジェリア
④	エチオピア
⑤	南アフリカ共和国

☆左の地図の①～⑪に当てはまる語句を語群から選んで書きなさい。



①	アフリカ
②	サハラ
③	ナイル
④	オアシス
⑤	遊牧
⑥	焼畑農業
⑦	コンゴ盆地
⑧	植民地
⑨	民族対立
⑩	公用語
⑪	アパルトヘイト

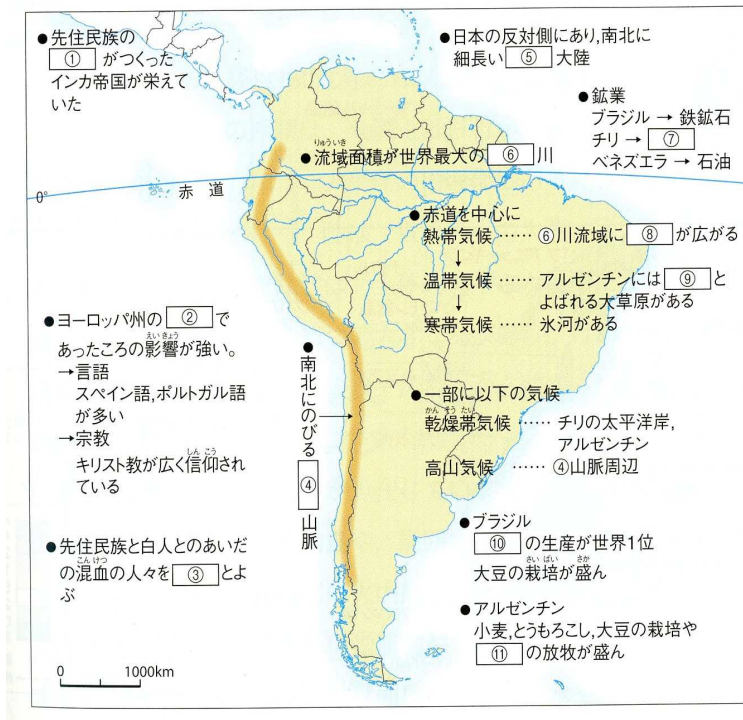
# ◎南アメリカ州



☆左の地図の①～⑤の国名を書きなさい。

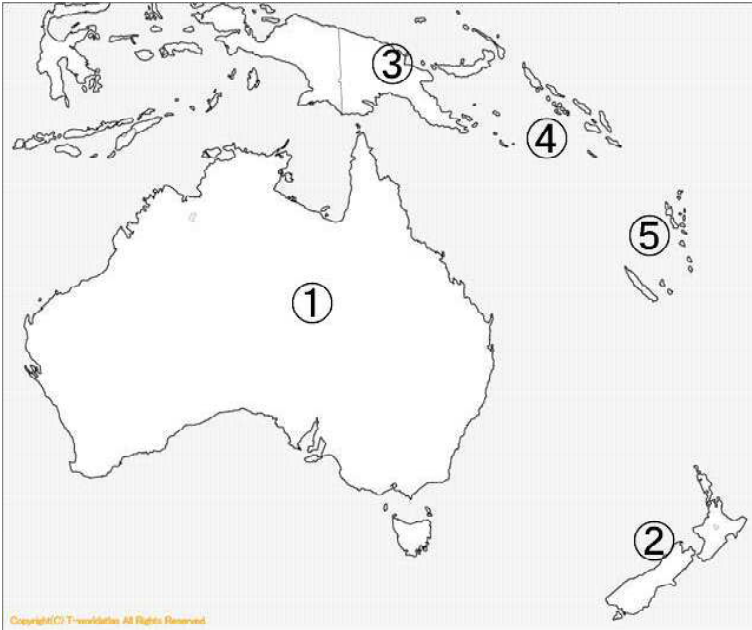
①	ブラジル
②	アルゼンチン
③	コロンビア
④	ペルー
⑤	チリ

☆左の地図の①～⑪に当てはまる語句を語群から選んで書きなさい。



①	インディオ
②	植民地
③	メスチソ
④	アンデス
⑤	南アメリカ
⑥	アマゾン
⑦	銅
⑧	熱帯雨林
⑨	パンパ
⑩	コーヒー
⑪	肉牛

# ◎オセアニア州



☆左の地図の①～⑤の国名を書きなさい。

①	オーストラリア
②	ニュージーランド
③	パプアニューギニア
④	ソロモン諸島
⑤	バヌアツ

群から選んで書きなさい。

☆左の地図の①～⑪に当てはまる語句を語



①	太平洋
②	火山
③	さんご礁
④	海洋
⑤	露天掘り
⑥	オーストラリア
⑦	放牧
⑧	羊
⑨	植民地
⑩	移民
⑪	先住民族